

ВСЕРОССИЙСКАЯ ОЛИМПИАДА ШКОЛЬНИКОВ ПО ТЕХНОЛОГИИ
РЕГИОНАЛЬНЫЙ ЭТАП
ТЕОРЕТИЧЕСКИЙ ТУР
11 класс, вариант 2
Профиль «Робототехника»

Уважаемый участник олимпиады!

Вам предстоит выполнить теоретические и тестовые задания.

Время выполнения заданий теоретического тура 2 академических часа (90 минут).

Выполнение тестовых заданий целесообразно организовать следующим образом:

- не спеша, внимательно прочитайте тестовое задание;
- определите, какой из предложенных вариантов ответа наиболее верный и полный;
- напишите букву, соответствующую выбранному Вами ответу;
- продолжайте, таким образом, работу до завершения выполнения тестовых заданий;
- после выполнения всех предложенных заданий еще раз удостоверьтесь в правильности ваших ответов;
- если потребуется корректировка выбранного Вами варианта ответа, то неправильный вариант ответа зачеркните крестиком, и рядом напишите новый.

Выполнение теоретических (письменных, творческих) заданий целесообразно организовать следующим образом:

- не спеша, внимательно прочитайте задание и определите, наиболее верный и полный ответ;
- отвечая на теоретический вопрос, обдумайте и сформулируйте конкретный ответ только на поставленный вопрос;
- если Вы выполняете задание, связанное с заполнением таблицы или схемы, не старайтесь детализировать информацию, вписывайте только те сведения или данные, которые указаны в вопросе;
- особое внимание обратите на задания, в выполнении которых требуется выразить Ваше мнение с учетом анализа ситуации или поставленной проблемы. Внимательно и вдумчиво определите смысл вопроса и логику ответа (последовательность и точность изложения). Отвечая на вопрос, предлагайте свой вариант решения проблемы, при этом ответ должен быть кратким, но содержать необходимую информацию;
- после выполнения всех предложенных заданий еще раз удостоверьтесь в правильности выбранных Вами ответов и решений.

Предупреждаем Вас, что:

- при оценке тестовых заданий, где необходимо определить один правильный ответ, 0 баллов выставляется за неверный ответ и в случае, если участником отмечены несколько ответов (в том числе правильный), или все ответы;
- при оценке тестовых заданий, где необходимо определить все правильные ответы, 0 баллов выставляется, если участником отмечены неверные ответы, большее количество ответов, чем предусмотрено в задании (в том числе правильные ответы) или все ответы.

Задание теоретического тура считается выполненным, если Вы вовремя сдаете его членам жюри.

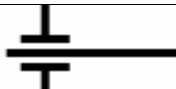
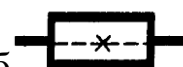








Максимальная оценка – 25 баллов.

Общая часть

1. Установите соответствие между элементами правого и левого столбцов.

1.	Внутриличностный процесс, развитие которого проявляется в появлении новообразований в представлениях учащихся о собственном профессиональном становлении и изменении осознанности и активности в отношении процесса выбора будущих вариантов профессионального труда	а	Профессиональная консультация
2.	Обобщенное понятие одного из компонентов общечеловеческой культуры, проявляющегося в форме заботы общества о профессиональном становлении подрастающего поколения, поддержки и развития природных дарований, а также проведения комплекса специальных мер содействия человеку в профессиональном самоопределении	б	Профессиональная ориентация
3.	Оказание помощи человеку в профессиональном самоопределении с целью принятия осознанного решения о выборе профессионального пути с учетом его психологических особенностей и возможностей, а также потребностей общества	в	Профессиональная проба
4.	Профессиональное испытание, моделирующее элементы конкретного вида профессиональной деятельности	г	Профессиональное самоопределение

2. Соотнесите условные графические обозначения, используемые в современном обществе, с областью их применения.

а 	б 	в 	г 	д 
е 	ж 	з 	и 	к 

1. уход за одеждой
2. кинематические схемы
3. электротехнические схемы

3. Передача электроэнергии на большие расстояния является важнейшей технической задачей в электротехнике. Российские ученые второй половины

XIX века одержали крупнейшую победу, став признанными лидерами в области электротехники. Что они изобрели?

- а. радиосвязь
- б. трансформатор
- в. теория электромагнитного поля
- г. все ответы верные

4. Два брата Виктор и Анатолий сделали вклады на год в двух разных банках. Виктор – под 9 % годовых с потерей процентов в случае досрочного закрытия вклада, а Анатолий – под 7 % годовых, но с сохранением процентов в случае досрочного закрытия. Через год при закрытии своих вкладов они получили равные суммы денег. Сколько денег положил в банк каждый из братьев, если общая сумма их вкладов была равна 250000 рублей?

5. Как называется система доставки материальных предметов, веществ и продуктов из одной точки в другую по оптимальному маршруту?

Специальная часть

6. Робот исследует лабиринт (рисунок 1). На первом этапе он проходит по нему по правилу правой руки и останавливается в исходной клетке в стартовом положении. Затем с помощью алгоритма волновой трассировки робот находит кратчайший путь по посещенным клеткам до клетки, которую он еще не посетил, и едет к ней. Если такая клетка не одна, то первой выбирается клетка с ближайшей координатой X (по горизонтали), затем Y (начало координат в левом нижнем углу). Оказавшись в ней, робот едет кратчайшим путем по посещенным клеткам до следующей непосещенной клетки и так далее. Посетив все клетки, робот возвращается на старт.

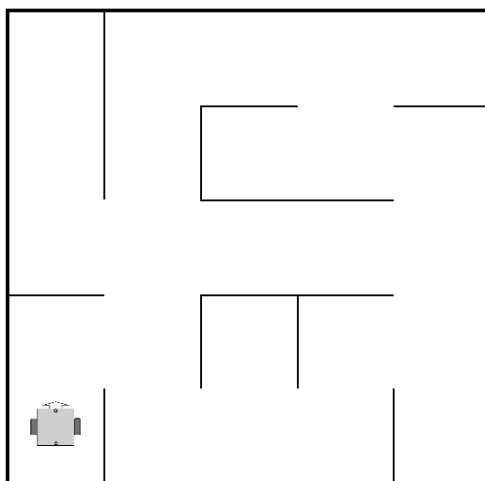


Рисунок 1. Лабиринт.

6.1. Укажите последовательность координат клеток, которые не были посещены методом правой руки, в порядке их посещения методом волновой трассировки. Клетки нумеруются с нуля. Запишите все пары чисел подряд через запятую в порядке X,Y, например: 1,2,1,3,4,4

6.2. Определите длину всего пути, пройденного роботом по алгоритму с волновой трассировкой (за исключением правила правой руки). Учитывайте только переходы из клетки в клетку.

7. Витя собрал автоматический лазерный указатель, состоящий из двух одинаковых шаговых двигателей. Один двигатель вращает лазер в горизонтальной плоскости, второй в вертикальной. За горизонтальное перемещение отвечает Мотор А, за вертикальное Мотор Б. Для управления двигателями NEMA 17 шагом 1.8 градуса Витя использовал драйвер A4988 (см назначение контактов).

Для тестирования своей установки он нарисовал на стене сетку 23 x 17 ячеек. Размер каждой ячейки 10 x 10 см.

Ячейки определяются несколькими способами. Нумерация ячеек начинается с 1 с нижнего левого угла и продолжается по горизонтали. Также координаты каждой ячейки хранятся в двумерном массиве. Начало координат - нижний левый угол. Координаты начинаются с 1. Таким образом ячейка с координатами (3;2) имеет номер 26. Витя определил начальное положение системы - лазер светит строго перпендикулярно стене. Пятно лазера находится высоте 20 см от нижнего края сетки и на 115 см от левого края. Из-за особенностей программы Вите удобнее хранить номер ячейки в восьмеричном виде.

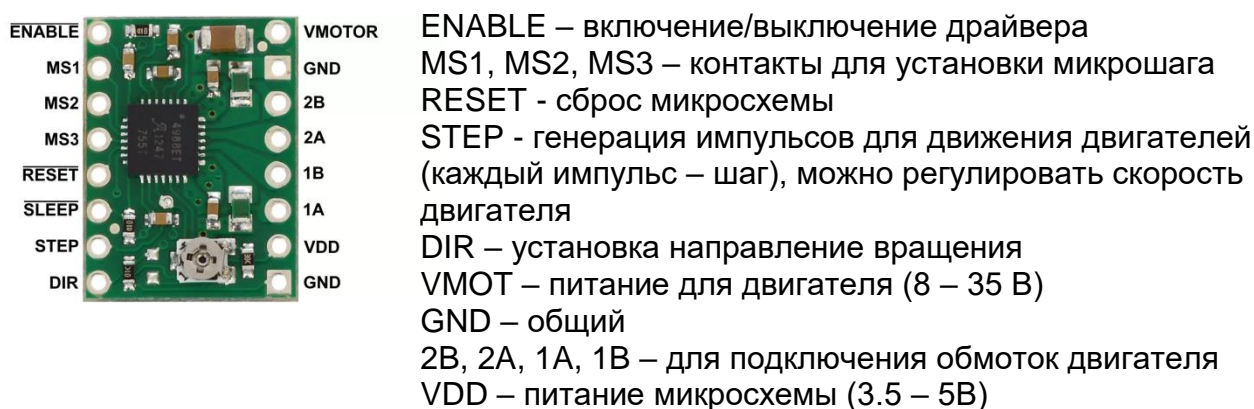


Рисунок 2. Изображение и назначение контактов драйвера A4988.

Значение микрошага устанавливается комбинацией сигналов на входах MS1, MS2, и MS3. Есть пять вариантов дробления шага (таблица 1).

Таблица 1.

MS1	MS2	MS3	Микрошаг
LOW	LOW	LOW	Полный шаг
HIGH	LOW	LOW	½ шага
LOW	HIGH	LOW	¼ шага
HIGH	HIGH	LOW	1/8 шага
HIGH	HIGH	HIGH	1/16 шага

LOW – 0, HIGH – 1

При этом конфигурацию драйвера Витя кодирует одним двоичным четырехбитным числом, где старший бит – направление мотора (1 - вперед, 0 - назад), а следующие 3 бита - MS1, MS2, MS3 в соответствующем порядке.

Мотор А, вращаясь с конфигурацией драйвера 8_{16} , перемещает лазер влево.

Витя провел тест системы, написав программу повернуть Мотор Б с конфигурацией F_{16} на 80 шагов, в результате выполнения которой пятно лазера переместилось вверх.

7.1. Определите расстояние до стены, если длина луча после теста стала 154_{10} см в ответе запишите расстояние в см. Округлите до десятых.

7.2. В какую ячейку светит лазер, если Мотор Б с конфигурацией 4_{16} за 5 шагов переместит луч на 150 мм. А затем Мотор А с конфигурацией драйвера 6_{16} повернется на 3,6 градуса? Устройство стартовало из начального положения. В ответе запишите номер ячейки в десятичной системе счисления.

7.3. Установку не перемещали (не меняли расстояние до стены) с предыдущего эксперимента (7.2). Определите в какую ячейку будет указывать лазер, конфигурации драйверов Мотор А = 6_{16} , Мотор Б = A_{16} . Из начального положения Мотор А сделает 67 шагов, а Мотор Б 42 шага. В ответе запишите номер ячейки в десятичной системе счисления.

7.4. Определите какой длины будет луч, если он светит в центр квадрата 554_8 , а установку поставили на расстояние 120 см. от стены. В ответе запишите расстояние в см. Округлите до десятых.

8. Миша выбирает мотор-редуктор для своего будущего колесного робота. мотор-редуктор состоит из электрического двигателя с энкодером и планетарного редуктора. В таблице 2 вы видите характеристики мотора, который

у Миши уже есть, в таблице 1 – характеристики редукторов на выбор. Энкодер, которым снабжен электрический двигатель обеспечивает точность 12 отсчетов на один оборот. Робот – тележка, оснащенная двумя мотор-редукторами с колесами и пассивной опорой (дифференциальная модель), расстояние между центрами колес – 170 мм, диаметр колес – 54 мм, масса робота 230 г.

Таблица 1. Планетарные редукторы

№	Модель редуктора	Коэффициент редукции	Номинальный передаваемый крутящий момент	Люфт	Биение	Длина	Вес
			кг/см	Градусы	мм	мм	гр
1	P22H0003-51000	3.57	3	≤1.2o	≤0.04mm	22.10	30
2	P22H0004-51000	4.6	3	≤1.2o	≤0.04mm	22.10	30
3	P22H0012-52000	12.76	5	≤1.5o	≤0.04mm	25.90	35
4	P22H0016-52000	16.43	5	≤1.5o	≤0.04mm	25.90	35
5	P22H0021-52000	21.16	5	≤1.5o	≤0.04mm	25.90	35
6	P22H0045-53000	45.55	8	≤1.8o	≤0.04mm	29.70	46
7	P22H0058-53000	58.67	8	≤1.8o	≤0.04mm	29.70	46
8	P22H0075-53000	75.57	8	≤1.8o	≤0.04mm	29.70	46
9	P22H0097-53000	97.34	8	≤1.8o	≤0.04mm	29.70	46
10	P22H0162-54000	162.69	8	≤1.8o	≤0.04mm	33.50	55
11	P22H0209-54000	209.55	8	≤1.8o	≤0.04mm	33.50	55
12	P22H0269-54000	269.9	8	≤1.8o	≤0.04mm	33.50	55
13	P22H0347-54000	347.63	8	≤1.8o	≤0.04mm	33.50	55
14	P22H0447-54000	447.75	8	≤1.8o	≤0.04mm	33.50	55
15	P22H0581-55000	581.05	8	≤1.8o	≤0.04mm	37.30	55
16	P22H0748-55000	748.39	8	≤1.8o	≤0.04mm	37.30	55
17	P22H0963-55000	963.92	8	≤1.8o	≤0.04mm	37.30	55
18	P22H1241-55000	1241.53	8	≤1.8o	≤0.04mm	37.30	55
19	P22H1599-55000	1599.09	8	≤1.8o	≤0.04mm	37.30	55
20	P22H2059-55000	2059.63	8	≤1.8o	≤0.04mm	37.30	55

Таблица 2. Характеристики мотора

Двигатель DC 22SYK		
Характеристики		
Номинальное напряжение	Вольт	12
Номинальный крутящий момент	мН м	9,06
Номинальный ток	А	0.7
Максимальный ток при блокировке	А	5,07
Номинальная частота вращения	об/мин	7276
Вес	гр	70

- 8.1. Какой редуктор необходимо выбрать Мише, чтобы обеспечить максимально возможную скорость робота и крутящий момент не менее 60 Нсм. В ответе запишите число – номер строки с моделью редуктора.
- 8.2. Какое расстояние проедет робот, если Миша выберет редуктор P22H0012-52000, а энкодер мотора покажет значение 2300. В ответе запишите число – расстояние в см. Округлите до целого.
- 8.3. С какой скоростью будет перемещаться робот с редуктором P22H0447-54000, если он управляется платой Arduino Uno, с разрядностью ШИМ 8 бит со следующим кодом?

```
#define speed_left 5 //пин скорости левого мотора
#define speed_right 6 //пин скорости правого мотора
/* "высокий" сигнал (HIGH) задает вращение мотора в
   направлении вперед относительно робота */
#define dir_left 4 //пин направления левого мотора
#define dir_right 7 //пин направления правого мотора

void setup() {
  for (int i = 4; i < 8; i++) {
    pinMode(i, OUTPUT);
  }
}
int const_speed[5] {50, 80, 127, 201, 255};
void loop() {
  int speed_now = 3;
  digitalWrite(dir_left, HIGH);
  digitalWrite(dir_right, HIGH);
  analogWrite(speed_left, const_speed[speed_now]);
  analogWrite(speed_right, const_speed[speed_now]);
}
```

В ответе запишите число – скорость в см/с. Округлите до целого.

- 8.4. Определите коэффициент заполнения ШИМ, управляющего драйвером сигнала, если с редуктором P22H0209-54000 частота вращения выходного вала 1,7 рад/с, а источник питания, который используется 9В. Округлите до целого.

9. Рабочая зона манипулятора расположена в горизонтальной плоскости. Манипулятор обладает одной поступательной и одной вращательной степенью

свободы. Координата положения захвата манипулятора вдоль оси манипулятора может меняться от 650 до 1050 условных единиц (1 условная единица равна 0,2 мм). Манипулятор может поворачиваться на угол, градусная мера которого меняется от -120° до 120° относительно оси манипулятора.

Для увеличения площади рабочей зоны манипулятор установили на тележку, которая может перемещаться вдоль прямой направляющей. Ось манипулятора расположена параллельно направляющей.

Тележка оснащена двумя отдельно управляемыми колёсами, диаметр каждого из колёс робота равен 6 см. Колёса напрямую подсоединены к моторам. Ширина колеи тележки равна 10 см.

Длина направляющей равна 8 м. На концах направляющей установлены стопоры. Тележка может занимать на данной направляющей любое положение, но не может выходить по длине за границы направляющей. Длина тележки равна 30 см, ось манипулятора установлена в центре тележки (рис. 3).

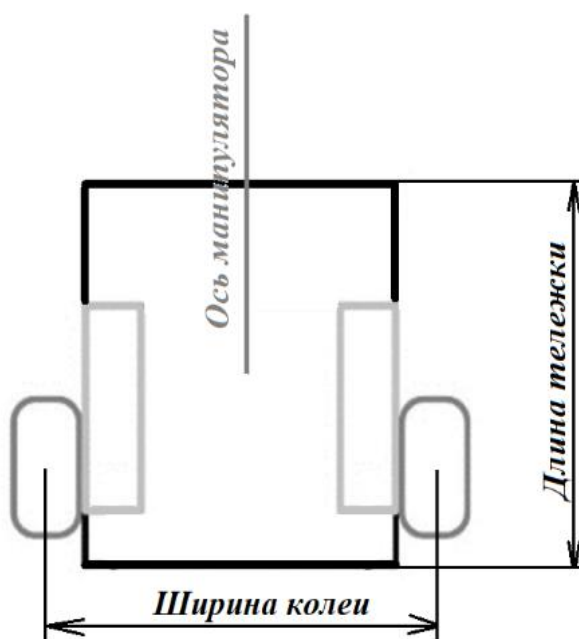


Рисунок 3. Схема тележки.

Определите следующие значения.

- 9.1. Первоначальную площадь рабочей зоны манипулятора. Ответ дайте в квадратных дециметрах.
- 9.2. Время, за которое тележка с манипулятором проедет из одного конца направляющей к другому, если оси моторов, установленные на тележку, за 2 секунды поворачиваются на 140° . Ответ дайте в секундах

9.3. Площадь рабочей зоны манипулятора после установки манипулятора на тележку на направляющей. Ответ дайте в квадратных дециметрах.

Ответы приведите с точностью до целых. При расчётах примите $\pi \approx 3,14$. Чтобы получить более точный результат, округление стоит производить только при получении финального ответа.

10. Трехмоторный робот на омни-колесах следует по циклическому алгоритму управления, изложенному ниже:

```
int path[6]={-150, 120, 30, -60, 120, 30};
float A, B, C, v=100, angle;
for(int i=0;i<6;i++)
{
    angle=path[i];
    A=v*cos((120-angle)*PI/180);
    B=v*cos((-angle)*PI/180);
    C=v*cos((240-angle)*PI/180);
    turn_motors(A,B,C);
    wait_next_node();
}
turn_motors(0,0,0);
```

Валы моторов размещены горизонтально под углом 120° друг к другу. При положительной скорости моторы вращаются по часовой стрелке (если смотреть на мотор со стороны колеса). Робот включает моторы функцией `turn_motors`, подавая на моторы скорость в диапазоне от -100 до 100. Робот умеет ждать наличие следующего узла под своим корпусом (рисунок 4) с помощью функции `wait_next_node`. Предполагается, что робот перемещается по сторонам квадратов между узлами, не изменяя ориентацию корпуса.

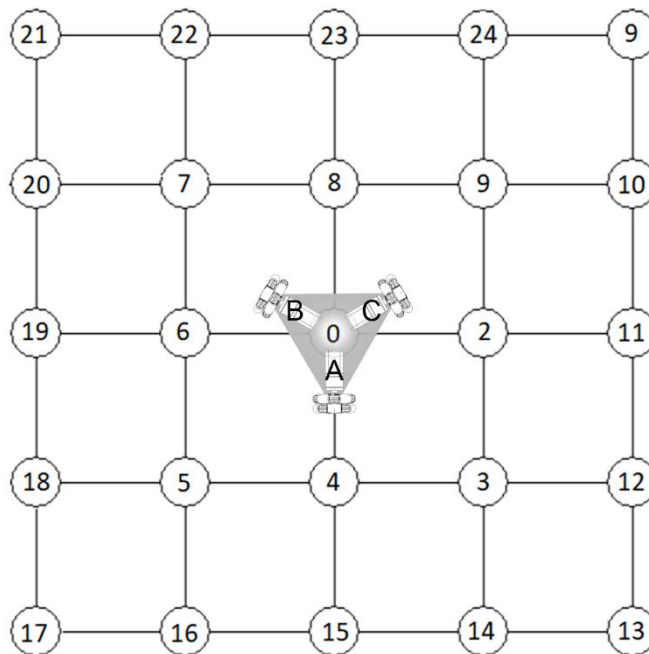


Рисунок 4. Омни-робот на полигоне.

- 10.1. Определите последовательность узлов, в которых робот побывает в процессе выполнения алгоритма, начиная с узла с номером 0. Трением и проскальзыванием пренебечь. Ответ запишите в виде последовательности чисел через запятую без пробелов, например: 0,8,2,10,11,0
- 10.2. На конечном узле робот повернулся на месте на 30 градусов по часовой стрелке. Укажите последовательность углов, которые надо последовательно записать в переменную `angle` в аналогичной программе управления, чтобы проехать тем же путем в обратном направлении в исходную позицию (через запятую без пробелов). Используйте наименьшие по модулю углы в диапазоне от -180 до 180. Например: 90,-45,60,-120,150,45